



رياضيات سنة أولى

إعداد الأستاذة سامية

صفحة الفيسبوك ولدي ديما ناجح كل المستويات

تملك سلمى قطعاً نقدية في حصّالتها.



أحسب المبلغ الذي تملكه سلمى.

..... = + + + + + + + + + +

ولدي ديما ناجح - كل المستويات
الأستاذة سامية



أكمل حسب المثال:

قطعة 5 مليمات : 3 قطع

قطعة 2 مليمات :

قطعة 1 مليم :

أحسب عدد القطع النقدية.

..... = + +

أرتب أعداد العملية ترتيباً تنازلياً بأستعمال علامة مقارنة.

ولدي ديما ناجح - كل المستويات
الأستاذة سامية

أمثل المبلغ الذي تملكه سلمى بأقل ما يمكن من القطع النقدية.





رياضيات سنة أولى

إعداد الأستاذة سامية

صفحة الفيسبوك ولدي ديما ناجح كل المستويات

أكمل بما يناسب : أكبر من - أصغر من - يساوي .

> علامة :

= علامة :

< علامة :

أقارن الأعداد التالية بأستعمال علامة المقارنة.

9 . 8

8 . 4

7 . 9

6 . 5


4 . 3

2 . 4

9 . 4

5 . 5

أكمل تعبير الالفتات .

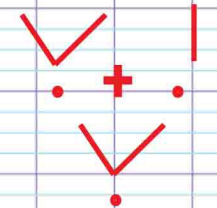


أكمل بما يناسب :

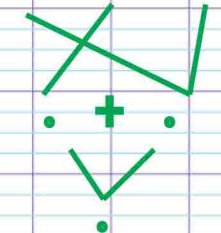
..... = (....+....) +

أحسب :

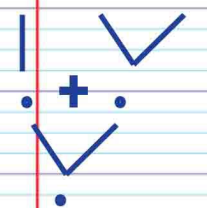
$$5 + 1 + 8$$



$$2 + 4 + 6$$



$$3 + 7 + 5$$



أرتب مجموع العمليات تصاعديا بأستعمال علامة مقارنة.

.....