

تقييم في مادة الرياضيات السنة الأولى

ولدي ديما ناجح - كل المستويات
<https://planetjob.tn>



أثناء تجولهم في البستان ، قطف الأصدقاء الثلاث ورودًا.
قطف عمر 11 وردة حمراء و 3 ورود بيضاء.
قطف سميرة 13 وردة بيضاء و 3 ورود حمراء.
و قطف سامي 5 ورود حمراء و 3 ورود بيضاء.

+

=
+

=
+

=
+

=

أحسب عدد الورد التي قطفها عمر.
..... + =



أحسب عدد الورد التي قطفها سميرة.
..... + =

أحسب عدد الورد التي قطفها سامي.
..... + =




قطف عمر ورودا أكثر من سميرة. صحيح أو خطأ و لماذا؟

أكمل رسم الورد في كل مجموعة مع كتابة مجموعها.

سامي

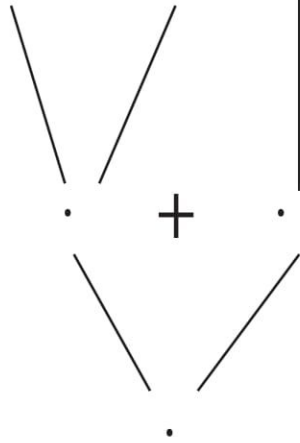
سميرة

عمر

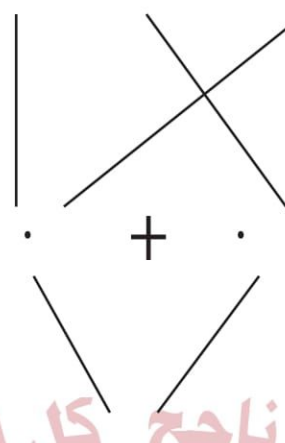


أحسب و أفكّك.

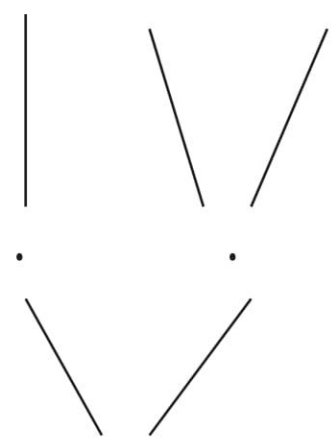
$4 + 3 + 12$



$3 + 6 + 7$



$3 + 6 + 5$



ولدي ديما ناجح . كل المستويات
الأستاذة سامية

أمثل هذه المبالغ بأقل عدد من القطع النقدية.

33 مي :

73 مي :

37 مي :

أرتب المبالغ المالية من الأكبر إلى الأصغر.

.....